

Abschlussklausur Theoretische Informatik 1 24. Februar 2022

Prof. Dr. Roland Meyer
René Maseli

TU Braunschweig
Wintersemester 2021/22

1. Lesen Sie bitte die **Selbstverständniserklärung** durch, bevor Sie die Klausur zu bearbeiten beginnen.
2. Schreiben Sie **leserlich** und **nummerieren** Sie die Seiten Ihrer Abgabe.
3. **Laden** Sie bis zum Ende der Klausur Ihre Abgabe in den dafür vorgesehenen **Abgabeordner hoch**. Sie können Ihre **Abgabe** dazu **abfotografieren, einscannen** oder **direkt als PDF** per Tablet oder ähnlichem erstellen. Abgaben als **.pdf, .jpg** oder sonstigen Standardformaten sind möglich.
4. Der Dateiname Ihrer Klausur soll MatNr_Nachname_Vorname sein. Der Dateiname Ihrer Erklärung nach Abschluss der Online-Prüfung soll MatNr_Nachname_Vorname_Erklärung sein.

Beispiel: 4444444_Mustermann_Max.pdf
4444444_Mustermann_Max_Erklärung.pdf

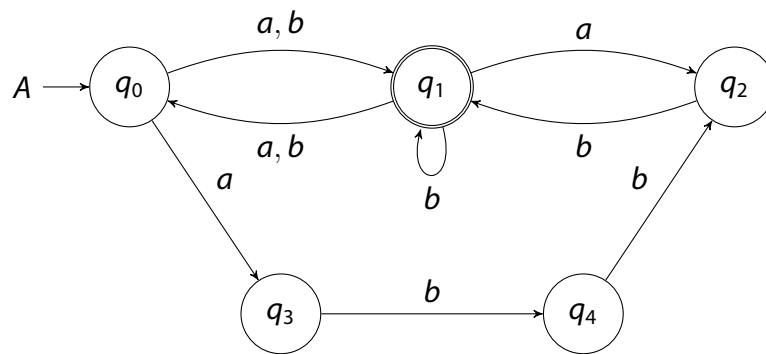
Falls Sie mehrere Dateien abgeben, fügen Sie entsprechende Suffixe in der Form `_Suffix` hinzu (z.B. 4444444_Mustermann_Max_2.pdf für die zweite Seite der Abgabe).

5. Sie dürfen das **Skript** und ihre **eigenen Aufzeichnungen** verwenden. Das Heranziehen **fremder Hilfe** (z.B. andere Studenten oder Internetforen) ist **untersagt**.
6. Wenn Sie im Laufe der Klausur **Fragen** haben, steht Ihnen folgender BBB-Raum zur Verfügung:
<https://webconf.tu-bs.de/ren-stc-bbv-r2d>
Stellen Sie Ihre Frage über den öffentlichen Chat. **Nach Beantwortung** Ihrer Frage, **verlassen** Sie bitte den BBB-Raum wieder.
7. Im Falle von Auftreten **technischer Probleme**, machen Sie bitte **Beweisfotos** und melden Sie anschließend die Probleme telefonisch unter +49 531-391-9522.
8. Wir werden den Termin für die Klausureinsicht auf unserer Website bekanntgeben:
tcs.cs.tu-bs.de/teaching/TheoInf1_WS_20212022.html.
9. Die Bearbeitungszeit beträgt **180 Minuten**. Laden Sie die Klausur **rechtzeitig** hoch!
10. Mit **40 Punkten** ist die Klausur **sicher bestanden**.

1. Determinisierung und Komplementierung

10 Punkte

Berechnen Sie einen DFA zur Komplementsprache $\overline{\mathcal{L}(A)}$ der Sprache $\mathcal{L}(A)$ des folgenden NFA A über $\Sigma = \{a, b\}$. Verwenden Sie hierzu die Rabin-Scott-Potenzmengenkonstruktion aus der Vorlesung. Konstruieren Sie nur die vom Startzustand aus erreichbaren Zustände.



2. CYK

10 Punkte

Nutzen Sie den Cocke-Younger-Kasami-Algorithmus aus der Vorlesung, um zu bestimmen, ob das Wort $w = acbcb$ von der kontextfreien Grammatik $G = \langle \{S, A, B, C\}, \{a, b, c\}, P, S \rangle$ mit den folgenden Produktionsregeln erzeugt wird. Füllen Sie die Tabelle vollständig aus.

$$S \rightarrow AC \mid BA ,$$

$$A \rightarrow a \mid BC \mid CB ,$$

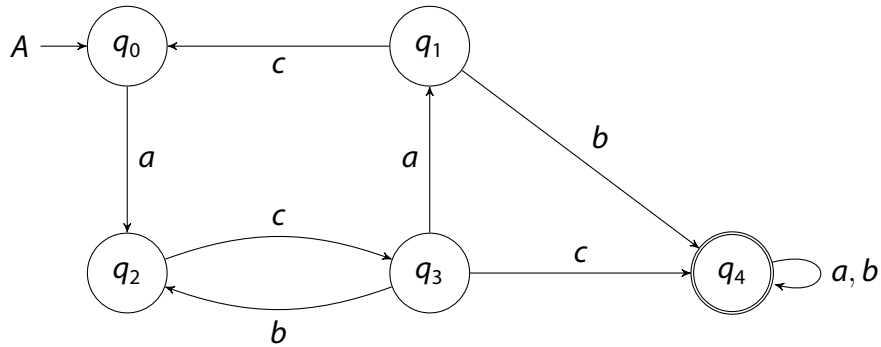
$$B \rightarrow b \mid CB ,$$

$$C \rightarrow c \mid AB .$$

3. NFA zu REG mit Ardens Lemma

10 Punkte

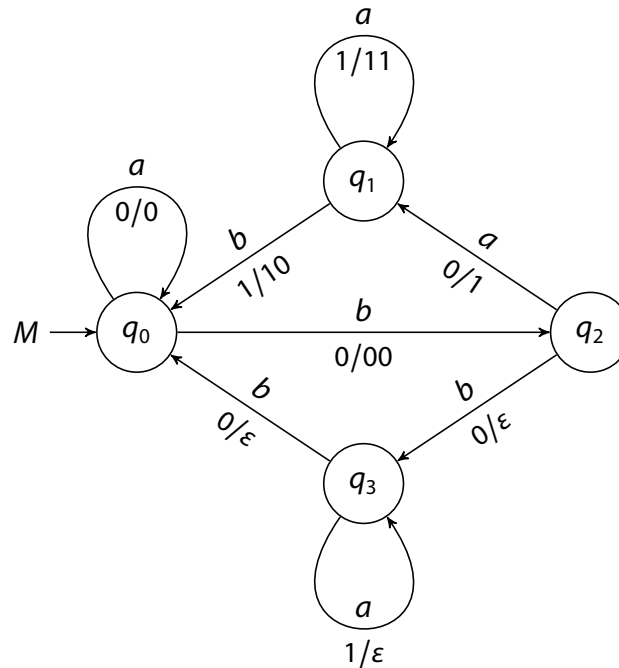
Geben Sie einen regulären Ausdruck an, der die Sprache $\mathcal{L}(A)$ des folgenden NFA A über $\Sigma = \{a, b, c\}$ beschreibt. Stellen Sie hierzu ein Gleichungssystem auf und lösen Sie es unter Verwendung von Ardens Lemma.



4. Tripelkonstruktion

10 Punkte

Betrachten Sie den Pushdown-Automaten $M = \langle \{q_0, q_1, q_2, q_3\}, \{a, b\}, \{0, 1\}, q_0, 0, \delta \rangle$, der mit leerem Stack akzeptiert und dessen Transitionsrelation δ durch das folgende Diagramm definiert ist. Verwenden Sie die Tripelkonstruktion aus der Vorlesung, um eine kontextfreie Grammatik G mit $\mathcal{L}(M) = \mathcal{L}(G)$ zu bestimmen.



5. Subsequenz-Ordnung

$2 + 3 + 2 + 3 = 10$ Punkte

Sei Σ ein endliches Alphabet. Wir definieren die Subsequenz-Ordnung \sqsubseteq auf Σ^* mit $v \sqsubseteq w$ genau dann, wenn man v aus w erhält, indem man null oder mehr Buchstaben streicht.

Wenn Sie eine formale Definition bevorzugen, lautet sie wie folgt:

$$v \sqsubseteq w \text{ gdw. } v = \varepsilon$$

ODER es ein streng-monotones $\varphi: \langle \{1 \dots |v|\}, \leq \rangle \rightarrow \langle \{1 \dots |w|\}, \leq \rangle$ gibt mit $v_i = w_{\varphi(i)}$ für alle $i \in \{1 \dots |v|\}$.

Zum Beispiel gilt $ab \sqsubseteq baabab$, durch φ mit $\varphi(1) = 2$ und $\varphi(2) = 4$.

- Zeichnen Sie das Hasse-Diagramm von $\langle \{a, b\}^*, \sqsubseteq \rangle$. Beschränken Sie sich dabei auf Wörter $w \in \{a, b\}^*$ der Länge $|w| \leq 3$.
- Zeigen Sie, dass $\langle \Sigma^*, \sqsubseteq \rangle$ eine partielle Ordnung ist.
- Für jedes $x \in \Sigma^*$ sei $h_x: \Sigma^* \rightarrow \Sigma^*$ eine Funktion mit $h_x(w) = x.w$. Beweisen Sie, dass h_x auf $\langle \Sigma^*, \sqsubseteq \rangle$ monoton ist.
- Zeigen oder widerlegen Sie, ob $\langle \Sigma^*, \sqsubseteq \rangle$ ein Verband ist. Könnte es sich hier um einen vollständigen Verband handeln?

6. Automatenkonstruktion

10 Punkte

Betrachten Sie die Sprache

$$L = \{a^{n_1} b a^{n_2} b \dots b a^{n_m} b a^k \mid m, k \in \mathbb{N}, n_1, n_2, \dots, n_m \in \mathbb{N}, n_1, n_2, \dots, n_m \leq k\} \subseteq \{a, b\}^*.$$

Konstruieren Sie einen PDA M , der das Komplement \bar{L} der Sprache akzeptiert.

Geben Sie insbesondere die Akzeptanzbedingung ihres Automats an und erklären Sie ihre Konstruktion.

7. Nichtregularität

10 Punkte

Für ein Paar von Worten v und w auf einem gemeinsamen Alphabet sei $|w|_v$ die Anzahl von Infixen von w , welche mit v übereinstimmen. Zum Beispiel ist $|aabbab|_{ab} = 2$.

Betrachten Sie die Sprache

$$L = \{w.\#.c^n \mid w \in \{a, b\}^*, |w|_{ab} \leq n\} \subseteq \{a, b, c, \#\}^*.$$

Zeigen Sie, dass L nicht regulär ist. Sie dürfen alle Ihnen bekannten Methoden verwenden.

Hinweis: Das Pumping-Lemma lässt sich nicht auf L anwenden.

8. Quiz $2 + 2 + 3 + 3 = 10$ Punkte

Bestimmen Sie zu jeder der folgenden Aussagen, ob sie wahr oder falsch ist. Geben Sie jeweils einen kurzen Beweis oder ein Gegenbeispiel an.

- a) Seien L_0 eine beliebige Sprache und L_1 regulär, sodass $L_0.L_1$ regulär ist. L_0 muss dann auch regulär sein.
- b) Seien L_0 und L_1 zwei Sprachen. Falls $\overline{L_0}$ kontextfrei und L_1 regulär ist, dann gibt es einen PDA M mit mindestens zwei Zuständen, der $\mathcal{L}(M) = \overline{L_0} \cap L_1$ erfüllt.
- c) Es gibt ein Verfahren, das für jeden regulären Ausdruck entscheidet, ob er jedes Wort enthält.
- d) Es sei p_0 eine Pumping-Konstante für eine Sprache L_0 und p_1 eine Pumping-Konstante für eine weitere Sprache L_1 . $\min(p_0, p_1)$ ist eine Pumping-Konstante für $L_0 \cup L_1$.

9. Kontextfreie Fixpunkte

10 Punkte

Zeigen Sie, dass $\{a^n b^n \mid n \in \mathbb{N}\}$ der kleinste Fixpunkt der monotonen Funktion F über dem vollständigen Verband $\langle \mathcal{P}(\{a, b\}^*), \subseteq \rangle$ ist:

$$F(X) = \{\varepsilon\} \cup \{a\}.X.\{b\} .$$

10. Ausdehnende NFAs**6 + 4 = 10 Punkte**

Für $k \in \mathbb{N}$ ist ein k -ausdehnender NFA $A = \langle Q, \Sigma, \rightarrow, q_0, Q_F \rangle$ mit der Struktur eines gewöhnlichen NFAs ausgestattet. Seine Sprache $\mathcal{L}_k(A)$ ist definiert als

$$\mathcal{L}_k(A) = \{w \in \Sigma^* \mid \text{es gibt } \geq k \text{ unterschiedliche akzeptierende Läufe auf } w \text{ in } A\}$$

Insbesondere gelten $\mathcal{L}_0(A) = \Sigma^*$ und $\mathcal{L}_1(A) = \mathcal{L}(A)$.

- a) Beweisen Sie zunächst, dass die durch 2-ausdehnende NFAs akzeptierten Sprachen genau die regulären Sprachen sind.
- b) Skizzieren Sie, wie diese Aussage auch für jedes größere $k \in \mathbb{N}$ gezeigt werden kann.